



MINISTERIO
DE EDUCACIÓN, FORMACIÓN PROFESIONAL
Y DEPORTES

SECRETARÍA DE ESTADO
DE EDUCACIÓN

DIRECCIÓN GENERAL DE EVALUACIÓN
Y COOPERACIÓN TERRITORIAL

inee

Instituto Nacional
de Evaluación
Educativa



EVALUACIÓN DE DIAGNÓSTICO

4.º EP

Prueba de competencias específicas de
Matemáticas

CURSO 2025-2026



INSTRUCCIONES

En esta prueba tendrás que responder a preguntas relacionadas con distintas situaciones.

- Si no sabes contestar alguna pregunta, no pierdas tiempo y pasa a la siguiente.
- Lee cada pregunta atentamente.
- Algunas preguntas tendrán cuatro posibles respuestas, pero solo una es correcta. Rodea la letra que se encuentre junto a ella.

Mira este ejemplo:

Ejercicio de ejemplo 1

¿Cuántos meses tiene un año? Elige la respuesta correcta.

- A. 2 meses
 B. 17 meses
 C. 12 meses
 D. 11 meses

Si decides cambiar una respuesta, tacha con una X tu primera elección y rodea la respuesta correcta.

Mira este ejemplo, donde primero se eligió la respuesta A y luego la C.

Ejercicio de ejemplo 1

¿Cuántos meses tiene un año? Elige la respuesta correcta.

- A. 2 meses
 B. 17 meses
 C. 12 meses
 D. 11 meses

En otras preguntas deberás decidir si las afirmaciones son verdaderas o falsas.

Ejercicio de ejemplo 2

Marca con una X si las siguientes afirmaciones son verdaderas o falsas.

	Verdadero	Falso
Un año tiene 12 meses	X	
Un año tiene 17 meses		X

Si decides cambiar una respuesta, tacha la X en la respuesta que quieres no marcar y escribe X en la otra casilla.

Mira este ejemplo en el que en la segunda afirmación se había seleccionado la opción «Verdadero» y se ha cambiado por «Falso»:

Ejercicio de ejemplo 2

Marca con una X si las siguientes afirmaciones son verdaderas o falsas.

	Verdadero	Falso
Un año tiene 12 meses	X	
Un año tiene 17 meses	X	X

Para otras preguntas te pedirán que completes la respuesta en el espacio señalado. Fíjate en el ejemplo:

Ejercicio de ejemplo 3

¿Cuántos meses tiene un año?

Un año tiene meses.

Si decides cambiar una respuesta, tacha y escribe claramente la nueva contestación.

Ejercicio de ejemplo 3

¿Cuántos meses tiene un año?

Un año tiene ~~10~~ meses.

¡NO PASES LA PÁGINA HASTA QUE SE TE INDIQUE!

COLABORAMOS EN CASA

SARA Y SU HERMANO HARUN AYUDAN EN CASA. HAN HECHO UN HORARIO PARA SABER QUÉ TAREA HACEN CADA DÍA Y CUÁNTO TIEMPO TARDAN.

TAREA DE CASA	TIEMPO ESTIMADO
 PONER LA MESA	10 MIN
 BARRER EL SALÓN	15 MIN
 PREPARAR DESAYUNO	20 MIN
 TENDER LA ROPA	10 MIN
 RECOGER LA HABITACIÓN	25 MIN

1. OBSERVA LA TABLA DE LAS TAREAS DIARIAS E INDICA CON UNA X SI SON VERDADERAS O FALSAS LAS SIGUIENTES AFIRMACIONES:



	VERDADERO	FALSO
EN PONER LA MESA SE TARDA 25 MINUTOS		
EN TENDER LA ROPA SE TARDAN 10 MINUTOS		

2. AL RECOGER LA HABITACIÓN, VEN MUCHOS OBJETOS CON DISTINTAS FORMAS GEOMÉTRICAS. ESCRIBE LA FORMA DE LOS DISTINTOS OBJETOS:

RECTÁNGULO - TRIÁNGULO - CUADRADO - CÍRCULO



3. ORDENA LOS PASOS DE LA SECUENCIA MÁS INDICADA PARA PREPARAR LAS TOSTADAS. ESCRIBE LOS NÚMEROS SEGÚN EL ORDEN MÁS APROPIADO.



	COLOCA EL PAN EN LA TOSTADORA	1.º
	UNTA MANTEQUILLA U OTRO INGREDIENTE AL GUSTO	
	SACA EL PAN TOSTADO CON CUIDADO DE NO QUEMARTE	

LAS TIENDAS DE MI BARRIO

EN NUESTRO BARRIO HAY DIFERENTES TIENDAS. ESTA SEMANA, LOS ALUMNOS DE CUARTO ACOMPAÑARON A SUS PADRES A HACER COMPRAS EN DISTINTAS TIENDAS.

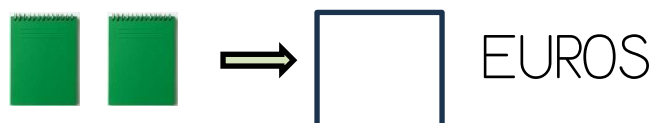


4. ¿QUÉ HAY ENTRE LA PAPELERÍA Y EL COLEGIO? RODEA LA RESPUESTA CORRECTA

- A. PAPELERÍA
- B. CAMPO DE FÚTBOL
- C. COLEGIO
- D. FERRETERÍA



5. RACHID VA A LA PAPELERÍA A COMPRAR DOS CUADERNOS. SI UN CUADERNO CUESTA 4 MONEDAS. ¿CUÁNTAS MONEDAS COSTARÁN DOS CUADERNOS? ESCRIBE LA RESPUESTA CORRECTA.



6. SALMA COMPRA EN LA PANADERÍA UNA BOLSA CON 8 COLINES DE PAN. COMPARTE CON SU AMIGO RACHID PARA TENER LOS DOS LOS MISMOS. ¿CUÁNTOS TIENEN CADA UNO? RODEA LA RESPUESTA CORRECTA.

A. 2

B. 4

C. 6

D. 8



7. OMAR SE COMPRA CADA DÍA DOS BOLSITAS DE GOMINOLAS FRUTALES. Y LO HACE SIGUIENDO ESE ORDEN. ¿CUÁLES SERÁN LAS DOS SIGUIENTES BOLSITAS QUE COMPRARÁ? (OBSERVA EL ESQUEMA PARA QUE TE AYUDA A DAR LA RESPUESTA.) RODEA LA RESPUESTA CORRECTA.



A.



B.



C.



D.



LA BIBLIOTECA

MUSA ES UN NIÑO DE 9 AÑOS AL QUE LE ENCANTA LEER CUENTOS, CÓMICS, LIBROS DE AVENTURAS...



8. MUSA ESTÁ ORGANIZANDO SU ESTANTERÍA Y QUIERE SABER CUÁNTOS LIBROS HAY EN CADA BALDA. UNE LOS NÚMEROS CON EL MONTÓN DE LIBROS QUE REPRESENTA.



5

4

8



9. MUSA ESTÁ INTENTANDO CONSTRUIR EL EDIFICIO DE LA BIBLIOTECA CON FIGURAS RECORTABLES. ¿CUÁL ES EL EDIFICIO QUE PUEDE REPRESENTAR CON LAS PIEZAS QUE HAY DENTRO DEL RECTÁNGULO? RODEA LA RESPUESTA CORRECTA.



A.

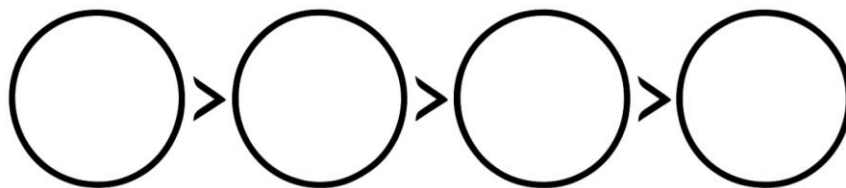
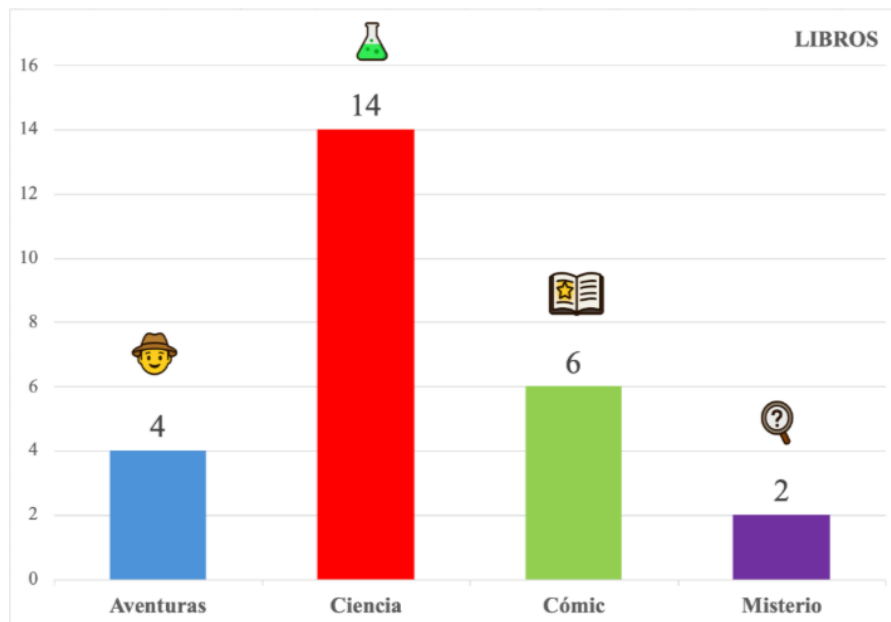
B.

C.

D.



10. LA BIBLIOTECARIA QUIERE SABER CUÁLES SON LOS LIBROS FAVORITOS DE LOS NIÑOS Y LAS NIÑAS DE LA CLASE. MIRA EL GRÁFICO, ORDENA Y ESCRIBE DE MAYOR A MENOR EL NÚMERO DE LIBROS DE CADA TIPO.



¡GRACIAS POR TU TRABAJO!

